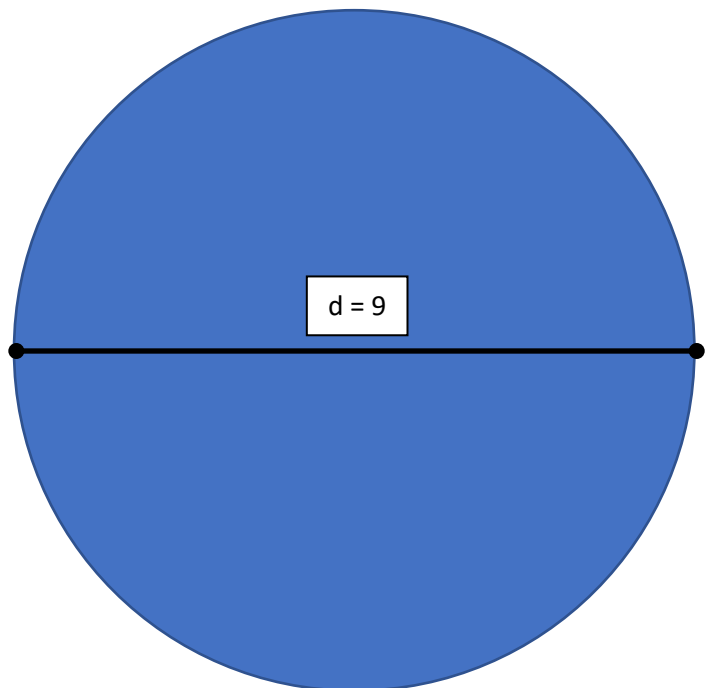
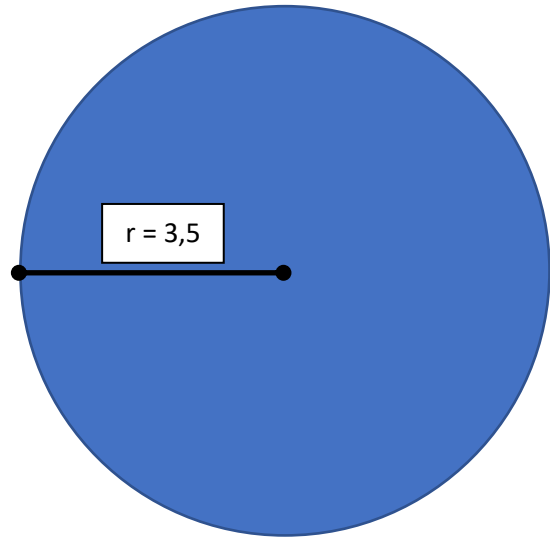



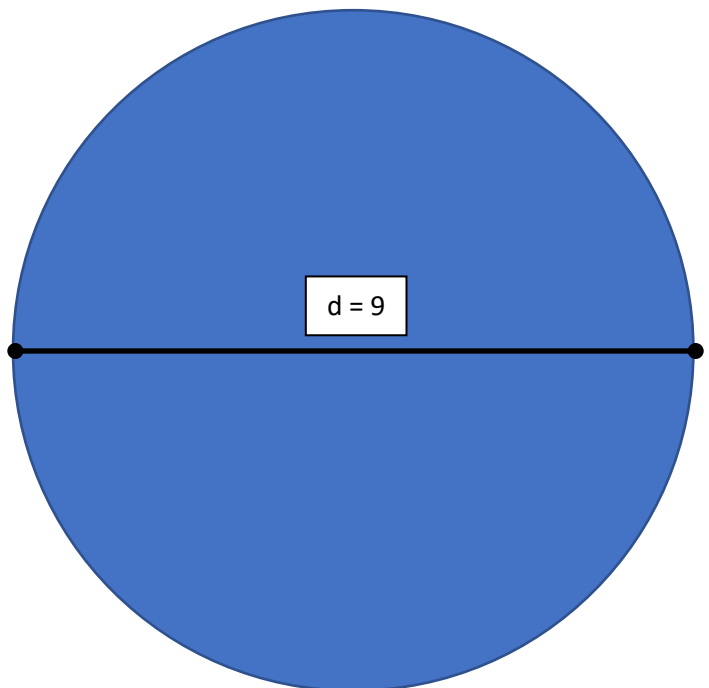
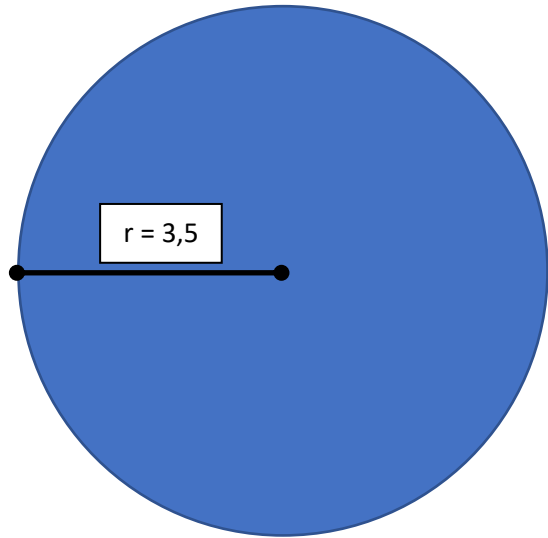

Areal af en Cirkel

Skriv din udregning af arealet ved hver cirkel



Omkreds af en Cirkel

Skriv din udregning af omkredsen ved hver cirkel



Terningspil

Du skal bruge papir til at skrive dine stykker op
Sørg for at notere dit kast først og derefter stil stykker op

Vælg dit spil:

- Beregn gennemsnit – de 4 terninger lagt sammen og del med 4
- Læg sammen – fx $6 + 1 + 3 + 4 = 14$
- Læg sammen – første kast 6-4-5-3 + andet kast 4-6-1-1
 $6453 + 4611 = 11064$
- Division – de to øverste fx 4-1 delt med de 2 nederste 5-2
 $41 / 52 = 0,788\dots$
- Gange – fx $4 * 2 * 3 * 6 = 144$
- Din egen ide – brug matematik, som du synes

Find spillet her: www.mrm.dk/Byskolen

Klik på: - [Regnespil med terninger](#)